

مدرسه خذروفي محمد بن سليمان
السنة الثالثة ابتدائي
امتحان الفصل الثالث في الرياضيات
اللقب و الاسم

.....
السؤال الأول: أحسب العمليات التالية عموديا:

$$\begin{array}{r} \times 1736 \\ \underline{\quad\quad} \\ 8 \end{array}$$

$$\begin{array}{r} \times 197 \\ \underline{\quad\quad} \\ 6 \end{array}$$

$$\begin{array}{r} \times 35 \\ \underline{\quad\quad} \\ 21 \end{array}$$

السؤال الثاني: ضع العلامة المناسبة : > ، < ، =

10009.....9999 / 78102.....78002 / 2305.....2609

السؤال الثالث: نظمت مدرستك حفلة بمناسبة يوم العلم ،

حيث بدأت الحفلة على الساعة 13:45 و انتهت على الساعة 16:56

أحسب مدة الحفلة ؟
الحل





العمليات	الأجوبة

السؤال الرابع: أذكر مرتبة الرقم 5 في الأعداد التالية

12567 مرتبة الرقم 5 هي.....
45089 مرتبة الرقم 5 هي.....

50023 مرتبة الرقم 5 هي.....

السؤال الخامس: أكمل الجدول التالي :

المضلع:				
				
عدد أضلاعه
اسمه

الوضعية:

اشترى أمين 4 كتب بـ: 260 دج للكتاب الواحد، و 5 أقلام بـ: 20 ديناراً للقلم الواحد و قاموساً بـ: 800 دج .

ency-education.com/exams