

المستوى : أولى متوسط
المدة : ساعة

اختبار الفصل الثالث في مادة الإعلام

الأولى

القسم : 1م....

اللقب :

الاسم :

التمرين الأول: أكمل الفراغ بما يناسب من كلمات :

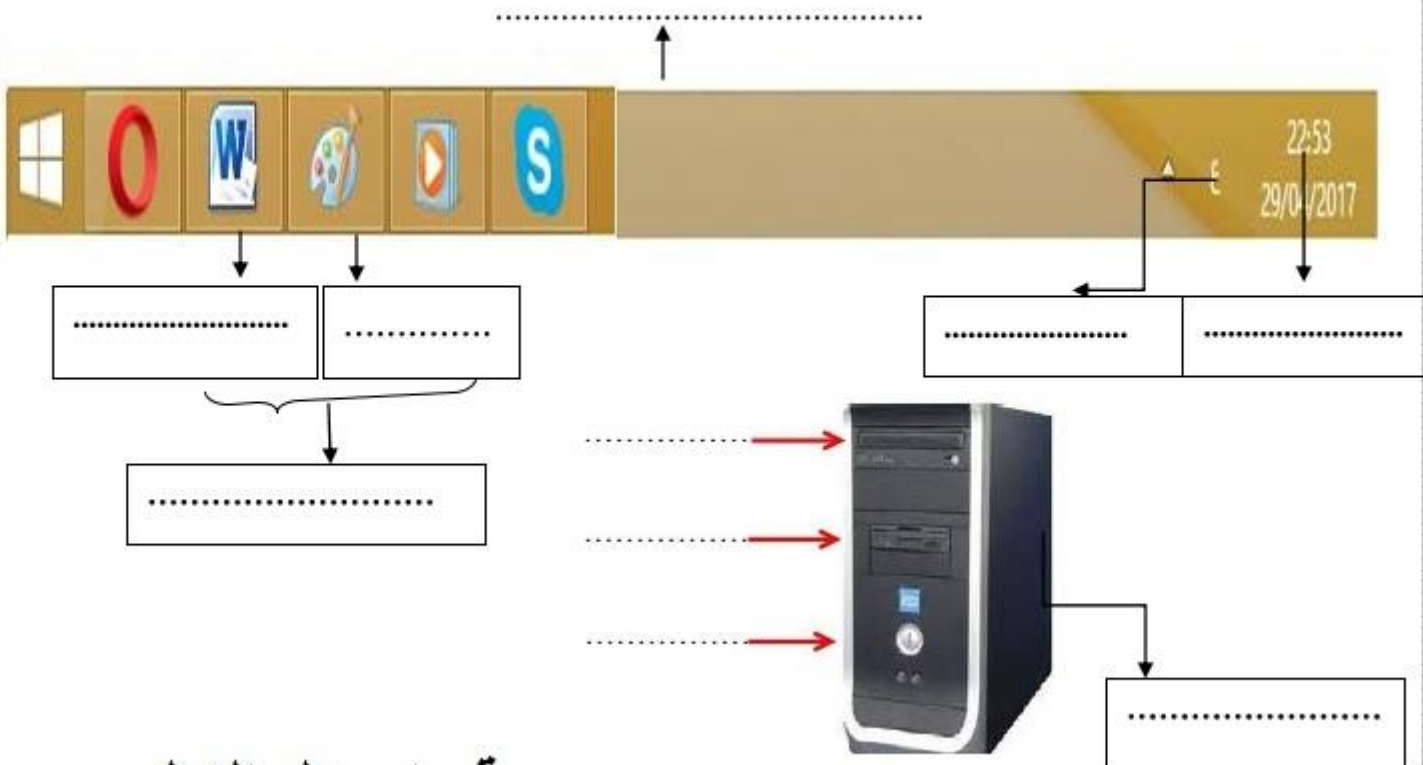
- 1- دور الحاسوب هو المعلومات و..... و..... النتائج المطلوبة.
- 2- سطح المكتب هو المساحة التي تغطي..... الشاشة. ويحتوي على عدة..... ويوجد في أسفله
- 3- نظام التشغيل : هو نظام يسمح ب..... الحاسوب وبتشغيل..... الأخرى وله عدة إصدارات منها.....،.....،.....

التمرين الثاني: ترجم الكلمات التالية للعربية

العربية	الفرنسية
	Corbeille
	Calculatrice
	Ecran

العربية	الفرنسية
	Tous les programmes
	Paint
	Icônes

التمرين الثالث: سم ما يشير إليه كل سهم:

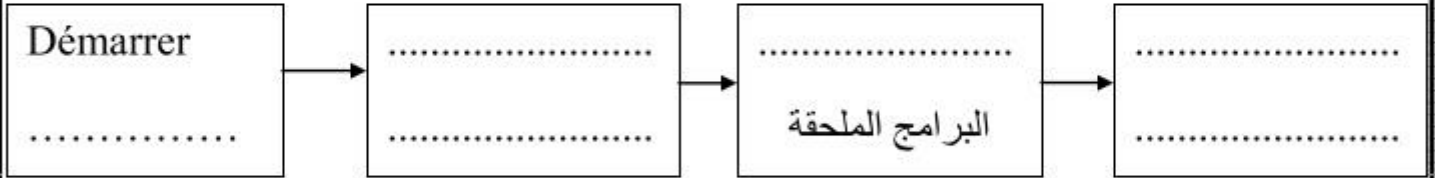


الوضعية الإدماجية:

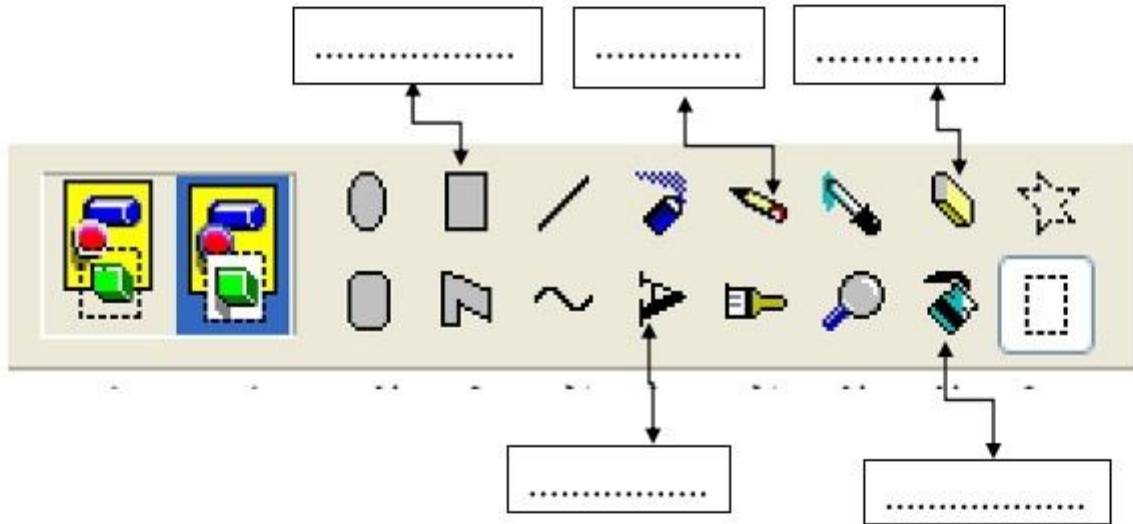
أحمد تلميذ في سنة أولى متوسط . في حصة الإعلام الآلي طلب منه أستاذه أن يرسم منظرا طبيعيا على حاسوبه
1- ما اسم البرنامج الذي سيستعمله أحمد؟.....

❖ عرف هذا البرنامج :.....

2- وضح في هذا المخطط مراحل الدخول لهذا البرنامج:



3- اعط اسما لكل أداة :



موقع امجدل التعليمي

لا تنسى زيارة موقع امجدل التعليمي